


毫米和公里

(一) 量量看。



1. 用厘米尺量度上面四邊形最短的一條邊的長度是 28 ✓ mm。
2. 用厘米尺量度上面四邊形最長的一條邊的長度是 70 ✓ mm。
3. 上面四邊形最長的一條邊的長度和最短的一條邊的長度相差 42 ✓ mm。

(二) 以單名數記錄下面的長度。

4. 70 cm 5 mm = 705 ✓ mm

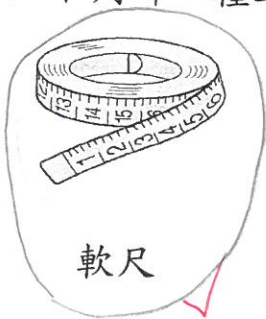
5. 89 厘米 3 毫米 = 893 ✓ 毫米

6. 8 km 63 m = 8063 ✓ m

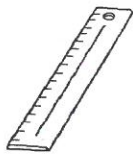
7. 75000 m = 75 ✓ km

(三) 圈一圈。

8. 下列哪一種工具最適合用來量度圍繞水杯一圈的長度? 把它圈出來。



軟尺



直尺

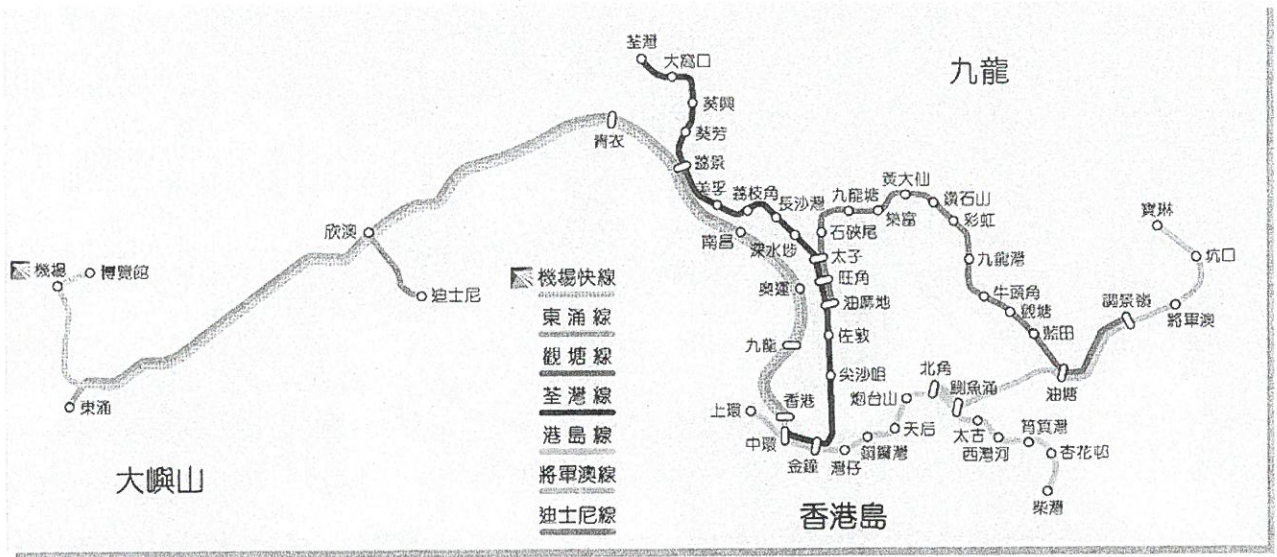


捲尺



滾輪


(四) 這是港鐵部分的路線圖。在橫線上填寫適當的長度單位。



9. 上圖中共有 53 個車站，全長約 91 公里 ✓。
10. 港島線中，每兩個車站之間平均相距約 1000 米 ✓。
11. 已知中環站與北角站相距約 6 公里，則上環站與柴灣站相距約 (6 / 13 / 20) 公里。(圈出最適合的答案)
12. 各路線中，最短的是迪士尼線，長約 (1 / 4 / 10) 公里。(圈出最適合的答案)

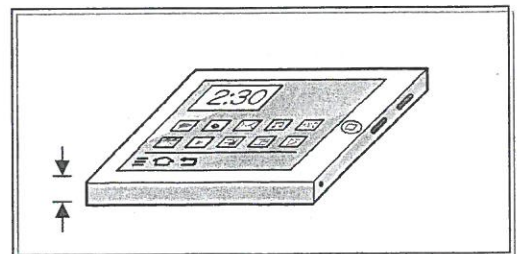
(五) 填上適當的長度單位。

13. 香港與上海的距離



公里 ✓

14. 平板電腦的厚度



毫米 ✓

完