




毫米和公里

(一) 量量看。



1. 用厘米尺量度上面四邊形最短的一條邊的長度是 28 ✓ mm。
2. 用厘米尺量度上面四邊形最長的一條邊的長度是 70 ✓ mm。
3. 上面四邊形最長的一條邊的長度和最短的一條邊的長度相差 42 ✓ mm。

(二) 以單名數記錄下面的長度。

4. 70 cm 5 mm = 705 ✓ mm

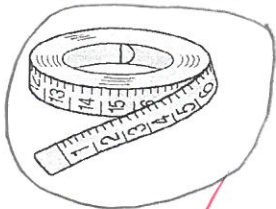
5. 89 厘米 3 毫米 = 893 ✓ 毫米

6. 8 km 63 m = 8063 ✓ m

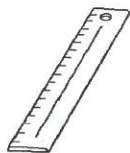
7. 75000 m = 75 ✓ km

(三) 圈一圈。


8. 下列哪一種工具最適合用來量度圍繞水杯一圈的長度? 把它圈出來。



軟尺 ✓



直尺



捲尺



滾輪

